

# El club de niñeras del vecindario

Nombre: \_\_\_\_\_

Maestra: \_\_\_\_\_


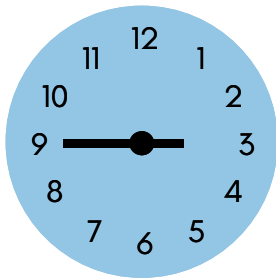
Grado y grupo: \_\_\_\_\_

Fecha: \_\_\_\_\_

Elena, Jazmín, Betty y Elisa han comenzado un club de niñeras del vecindario. Para repartir sus ganancias, decidieron basarse de acuerdo al tiempo que trabajaron.

Ayúdalas anotando a qué hora inició cada persona, a qué hora terminaron y cuánto tiempo trabajaron con base en las horas marcadas.

Patricia





Inicio: \_\_\_\_\_

Final: \_\_\_\_\_

Tiempo total trabajado: \_\_\_\_\_

Juliana





Inicio: \_\_\_\_\_

Final: \_\_\_\_\_

Tiempo total trabajado: \_\_\_\_\_

Carolina





Inicio: \_\_\_\_\_

Final: \_\_\_\_\_

Tiempo total trabajado: \_\_\_\_\_

Elisa



Inicio: \_\_\_\_\_

Final: \_\_\_\_\_

Tiempo total trabajado: \_\_\_\_\_